

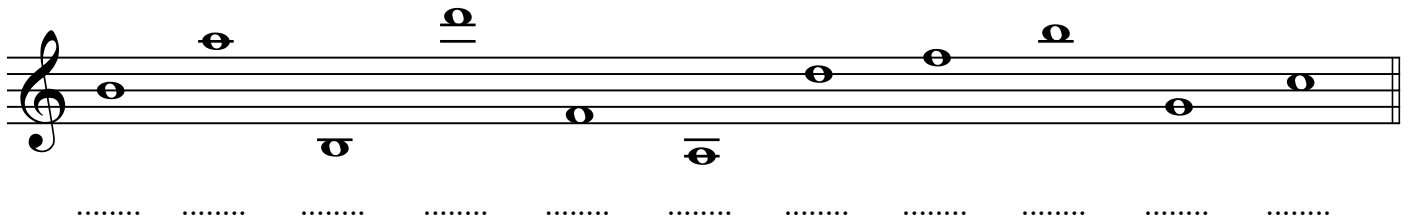
Name:

Klasse:

Datum:


## Notennamen mit Oktavbezeichnungen im Violin- und Bassschlüssel

1) Benenne die Noten mit Namen und Oktavbezeichnung



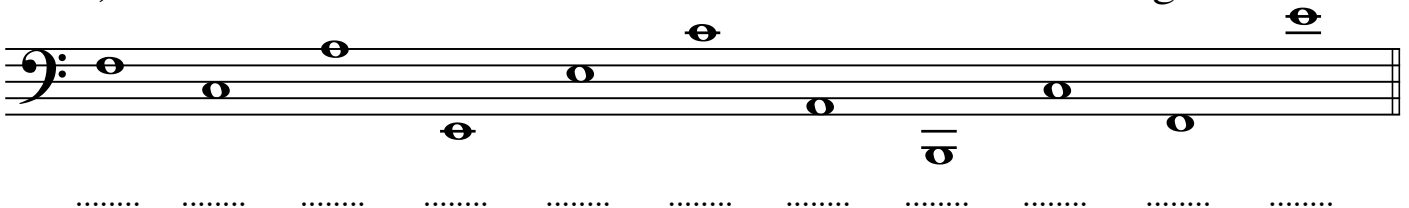
.....

2) Notiere die angegebenen Noten




h c'' e' d''' g' a f' d' a'' c''' g'' f' c'

1) Benenne die Noten mit Namen und Oktavbezeichnung



.....

2) Notiere die angegebenen Noten



g H c' C H, e e' F A c E d D

Tausche Dein Blatt mit Deinem Banknachbarn. Vergleiche nun die Lösungen Deines Nachbarn mit den Musterlösungen. Hake richtige Lösungen ab und verbessere falsche.